

ВСЕРОССИЙСКАЯ ОЛИМПИАДА ШКОЛЬНИКОВ

ПО технологии

МУНИЦИПАЛЬНЫЙ ЭТАП

" 5 " декабря 2020 г.

ШИФР Т14

ОЛИМПИАДНАЯ РАБОТА

УЧЕНИ цы 8 КЛАССА

г. Славгород

(наименование муниципалитета)

МБОУ СОШ №5

(наименование образовательной организации)

Мурзина Светлана Викторовна

(Фамилия Имя Отчество участника)

Учитель участника по предмету: Костюченко С. А.

Номер задания/ субтест		Итого
Баллы		20

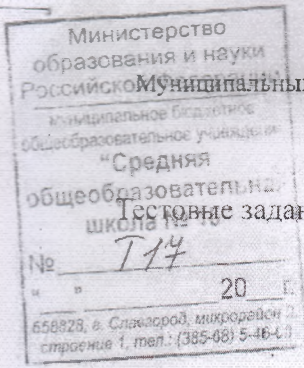
Председатель жюри: Реш Костюченко С.Т.

Члены жюри: Браун В.Е. ФИО

Браун ФИО Беденко А.И.

Браун ФИО Веселкина И.И.

ФИО



Муниципальный этап Всероссийской олимпиады школьников по технологии 2020/2021 учебного года
Номинация «Культура дома, дизайн и технологии»
7-8 класс.

Тестовые задания для муниципального этапа Всероссийской олимпиады школьников по
технологии 2020/2021 учебного года
Номинация «Культура дома, дизайн и технологии»
7-8 класс.

Максимальное количество баллов - 25

1. Образовательная область «Технология» изучает

(отметьте знаком + правильный ответ)

- 15
- а) технологии автостроения
 - б) технологии медицинского приборостроения
 - в) технологии самолетостроения
 - + г) технологии преобразования материалов, энергии и информации

2. Какие волокна имеют наибольшую гигроскопичность:

(отметьте знаком + правильный ответ)

- 75
- а) лен;
 - б) лавсан;
 - + в) шерсть;
 - г) шелк.

3. Клетки живого организма строятся из:

(отметьте знаком + правильный ответ)

- 10
- * а) аминокислот;
 - б) солей;
 - в) витаминов;
 - + г) белков;
 - д) жиров.

4. К сфере деятельности «человек-человек» можно отнести следующие профессии:

(отметьте знаком + правильные ответы)

- 15
- а) автомеханик;
 - + б) учитель;
 - в) ветеринар;
 - г) машинист поезда;
 - + д) стюардесса;
 - е) лесник.

5. Родиной кофе являются:

(отметьте знаком + правильный ответ)

- 10
- * а) Турция;
 - б) Монголия;
 - + в) Эфиопия;
 - г) Китай;
 - д) Япония.

6. По конструкции юбки бывают:

(отметьте знаком + правильные ответы)

- 15
- + а) конические
 - б) косые;
 - в) диагональные;
 - + г) прямые.

7. Какие изображения выявляют видимые части формы детали:

(отметьте знаком + правильный ответ)

- а) разрезы;

T 14

- б) виды;
- в) сечения;
- + г) изометрическая проекция;
- + д) схемы.

15

8. К соединительным швам относятся:
(отметьте знаком + правильный ответ)

- + а) стачной шов;
- * б) шов вподгибку;
- + в) расстрочной шов;
- г) окантовочный шов.

15

9. Для построения чертежа конической юбки необходимы следующие мерки:
(отметьте знаком + правильные ответы)

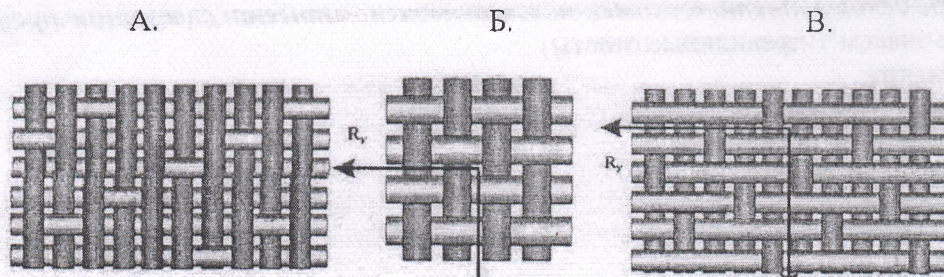
- а) обхват плеча Оп;
- б) полуобхват груди Сг I
- + в) полуобхват талии Ст
- + г) полуобхват бедер Сб

10. Какой линией чертежа по ГОСТу показывают линию сгиба:
(отметьте знаком + правильный ответ)

- а) сплошная волнистая;
- + б) штрихпунктирная основная;
- в) штрихпунктирная с двумя точками;
- г) штриховая;
- * в) сплошная тонкая.

15

11. На каком рисунке изображено полотняное переплетение?

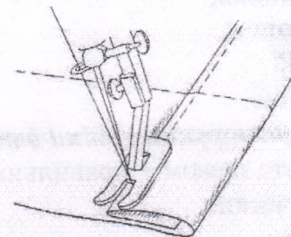


Ответ: Б

15

12. Какой машинный шов показан на картинке?

- А. Шов в подгибку с закрытым срезом
- Б. Шов в подгибку с открытым срезом



Ответ: А

15

13. Напишите условное обозначение мерки.

1. Полуобхват бедер - Сб....
2. Длина изделия - Ди....
3. Ширина груди - Шг....
4. Полуобхват шеи - Сш....

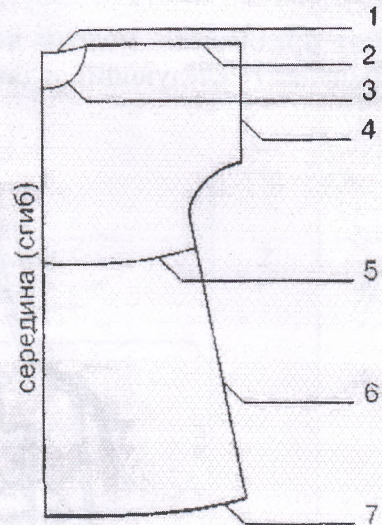
Ответ: Сб, Ди, Шг, Сш

7-14

Муниципальный этап Всероссийской олимпиады школьников по технологии 2020/2021 учебного года
Номинация «Культура дома, дизайн и технологии»
7-8 класс.

14. Дайте название конструктивным линиям
и срезам плечевого изделия.

Ответ: 1 горловина
2 линия плеча
3 горловина
4 шлица
5 линия талии
6 линия бедра
7 линия низа



15

15. Какой покрой рукава показан на картинке?

- А. Цельнокроенный
- Б. Втачной
- В. Реглан

Ответ: В



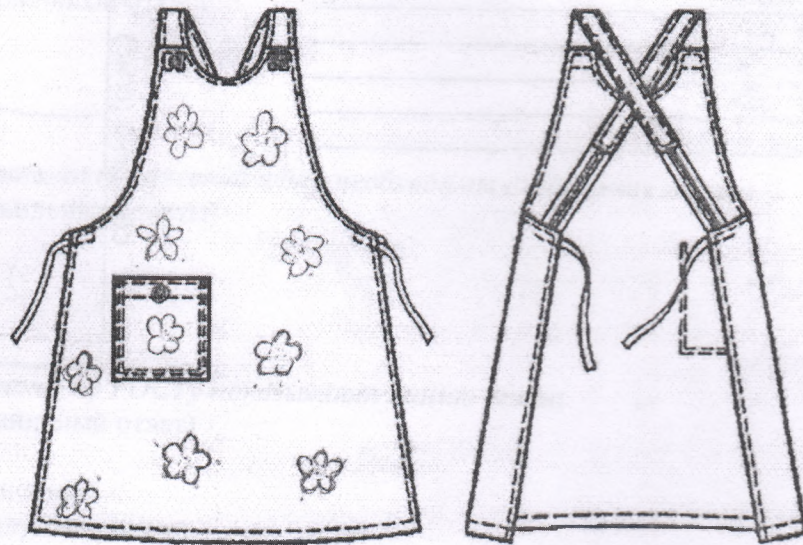
15

T 14

Муниципальный этап Всероссийской олимпиады школьников по технологии 2020/2021 учебного года
 Номинация «Культура дома, дизайн и технологии»
 7-8 класс.

16. Творческое задание

Вам предложена модель детского фартука для рукоделия (виды спереди и сзади).
 Выполните следующие задания:



№	Описание заданий	Выполнение заданий	балл	оценка
1	Выполните детали кроя этого изделия		3	3

Муниципальный этап Всероссийской олимпиады школьников по технологии 2020/2021 учебного года
 Номинация «Культура дома, дизайн и технологии»
 7-8 класс.

2	Запишите названия деталей и их количество	изделие (фартук) идеи x1 x2 карман x1 пояс x2	1	1
3	Сделайте описание модели по следующему плану:	наименование и назначение изделия фартук. Защита одежды от загрязнения <hr/> силуэт, покрой трапеция, плечи с расширением у низа <hr/> вид застёжки, конструктивные особенности пояс; накрестил плечей лямки	2	1
4	Какими свойствами должен обладать материал, из которого его можно сшить? Предложите такие материалы	воздухопроницаемость, прочность, воздухопроницаемость ткань должна быть легкой хлопок	1	1
5	Перечислите инструменты и оборудование, необходимые для изготовления данного изделия	швейная машина, ножницы и иглы линейка, ручка, портновские булавки, переносной шпатель	1	1
6	Предложите элементы декора для этой модели. Выполните эскиз модели с декором	Декор - рисунок на ткани, карман, пуговицы	2	